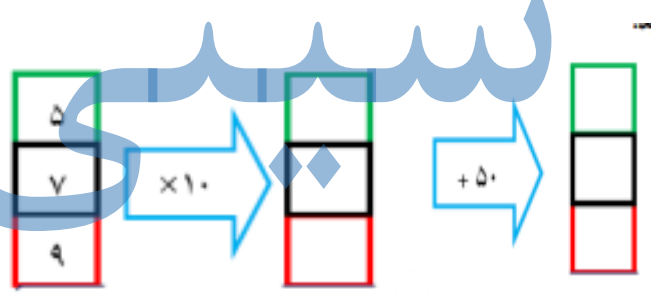
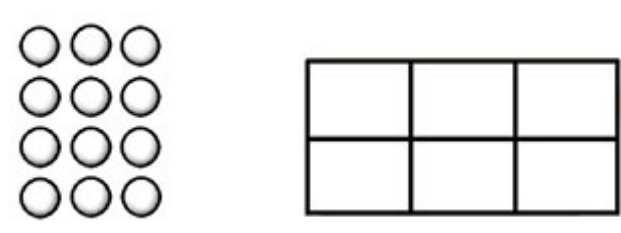


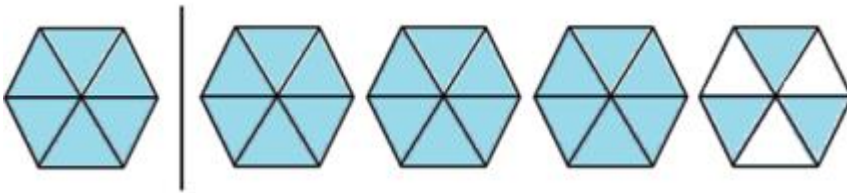


سنجش عملکرد ریاضی نیمسال اول (دی) پایه چهارم  
پیش دبستان و دبستان موفق  
نام آموزگار: طاهری کامران  
تاریخ:

نام و نام خانوادگی:

ردیف	سوال	عملکرد
۱	با توجه به عدد روبرو به سوال های روبرو پاسخ دهید . الف: به حروف بنویسید . ب: گسترده عدد بالا را بنویسید. پ: ارزش مکانی رقم ۷ را بنویسید . ت: رقم صدگان هزار چند است .	<u>۵۴۲۷۰۱۳۶</u>
۲	جدول ورودی و خروجی زیر را حل کنید . 	
۳	الگو های عددی را ادامه دهید . ۳    ۶    ۹    ..... ۷۰۰    ۶۵۰    ۶۰۰    .....	
۴	با نوشتن کسرهای مساوی مناسب $\frac{1}{3}$ هر یک از شکل های زیر را رنگ کنید . 	

عدد مخلوط زیر را بنویسید



حاصل جمع و تفریق و ضرب زیر را بنویسید .

$$\frac{8}{3} + \frac{3}{4} =$$
$$\frac{12}{17} - \frac{2}{17} =$$

۵

حاصل ضرب زیر را بنویسید و کسر زیر را ساده کنید .

$$3 \times \frac{6}{24} =$$
$$\frac{7}{35} =$$

۶

حاصل ضرب زیر را به روش فرآیندی حل کنید .

$$\begin{array}{r} 25 \\ \times 7 \\ \hline \end{array}$$

۷

حاصل ضرب زیر را به روش دلخواه حل کنید

$$\begin{array}{r} 23 \\ \times 17 \\ \hline \end{array}$$

۸

	می خواهیم ۴۲ توپ فوتبال را بین ۷ نفر تقسیم کنیم . به هر نفر چند توپ فوتبال می رسد ؟	۹
	<p>تقسیم زیر را به روش فرآیندی حل کنید .</p> $\begin{array}{r} 846 \quad   \quad 4 \\ \hline \end{array}$	۱۰

جزوه سیتی

ارزشیابی :

موفق باشید

طاهری کامران